



UNIVERSIDADE
FEEVALE
CONHECIMENTO PARA INOVAR O MUNDO

Vestibular de Verão 2019

PROVA II - Questões Objetivas

VESTIBULANDO(A)

Verifique se, neste caderno, ocorreram falhas quanto à reprodução gráfica e/ou à sequência de páginas.
Caso encontre alguma irregularidade, por favor, solicite a troca do material.

Marque a alternativa que corresponde ao que cada questão pede.

As questões de 1 a 4 referem-se ao texto a seguir.

A Reconstituição Federal

01. A Constituição Federal é a lei mais importante que um país pode ter. Todas as demais leis e todos os atos
02. praticados pela administração pública e pelos cidadãos devem respeitá-la, sob pena de imediata censura e
03. extirpação. Na “Carta Magna”, estão previstos os direitos e as garantias mais fundamentais dos cidadãos.
04. Nela, estão descritos o funcionamento e a competência das instituições mais importantes. Na “Lei das leis”,
05. constam os princípios e objetivos que devem ser fielmente observados por todos para que seja possível a
06. construção de uma nação próspera e digna.

07. A Constituição da República Federativa do Brasil de 1988 conta com todos esses ingredientes. Já em seu
08. preâmbulo, lê-se que os constituintes, representantes do povo brasileiro, pretenderam “instituir um Estado
09. Democrático, destinado a assegurar o exercício dos direitos sociais e individuais, a liberdade, a segurança,
10. o bem-estar, o desenvolvimento, a igualdade e a justiça como valores supremos de uma sociedade fraterna,
11. pluralista e sem preconceitos, fundada na harmonia social e comprometida, na ordem interna e internacional,
12. com a solução pacífica das controvérsias”. Como fundamentos, apresenta a soberania, a cidadania, a
13. dignidade da pessoa humana, os valores sociais do trabalho e da livre iniciativa e o pluralismo político. Como
14. objetivos, a construção de uma sociedade livre, justa e solidária, a garantia do desenvolvimento nacional, a
15. erradicação da pobreza e da marginalização, a redução das desigualdades sociais e regionais e a promoção
16. do bem de todos, sem preconceitos de origem, raça, sexo, cor, idade e quaisquer outras formas de
17. discriminação.

18. Adiante, num de seus artigos mais importantes, registra que todos são iguais perante a lei, sem distinção
19. de qualquer natureza, garantindo-se aos brasileiros e aos estrangeiros residentes no país a inviolabilidade
20. do direito à vida, à liberdade, à igualdade, à segurança e à propriedade. O texto segue nessa toada. Enche
21. os olhos de quem o lê. Enche o coração dos cidadãos com a esperança de dias virtuosos. Enche de orgulho
22. aqueles que acreditam nas qualidades de um Estado Democrático de Direito, na dignidade e na dignificação
23. da pessoa humana. Mas é apenas um texto. Cheio de boas intenções, mas um texto. A receita para o preparo
24. do prato mais saboroso e premiado do mundo também é apenas um texto. Sem bons ingredientes e sem um
25. cozinheiro preparado, continuará a ser o que sempre foi. Um texto. É o que parece acontecer no Brasil. Temos
26. uma receita ótima. Moderna, democrática e solidária. Dignificante da pessoa humana. Mas temos bons
27. ingredientes? Temos cozinheiros preparados?

28. Passados 30 anos, ainda estamos muito distantes de uma sociedade livre, justa e solidária. Estamos
29. longe de ver a erradicação da pobreza, da marginalização e das desigualdades sociais. Estamos ainda em
30. busca de uma sociedade sem preconceitos ou discriminações de qualquer espécie. Estar longe ou distante
31. de algo não significa muito em si. Quando sabemos aonde queremos chegar e o que fazer para isso, não
32. importa a distância. Estando no caminho certo, basta trilhá-lo que cedo ou tarde o destino será alcançado.
33. Não precisamos de uma nova Constituição, tudo o que necessitamos para ser uma nação próspera e
34. dignificante da pessoa humana está nela indicado. Precisamos é de uma Reconstituição Federal. Uma
35. reconstituição de nós mesmos, como povo, como nação. Uma reconstituição de valores, de compromisso, de
36. ética e de vontade de sair desse patamar em que sempre insistimos em ficar, com pequenos progressos e
37. recorrentes regressos.

38. Com uma Reconstituição Federal, deixaremos de ser o país do futuro. Um país que poderia ter sido. E
39. que não foi.

(Adaptado de CASSIOLATO, Bruno Luiz. Pobre Constituição: há quase 30 anos na espera de ser efetivada. **Carta Capital**. 2015. Disponível em: <<http://justificando.cartacapital.com.br/2015/04/06/pobre-constituicao-ha-quase-30-anos-na-espera-de-ser-efetivada/>>. Acesso em: 29 ago. 2018).

1) Com base no texto, considere verdadeiras (V) ou falsas (F) as afirmações que seguem.

- () O autor do texto defende uma nova Constituição Federal, que dignifique o povo, que devolva valores e ética ao povo brasileiro.
- () Usando a analogia da receita, o autor acredita que temos um bom texto constitucional, mas duvida, por exemplo, dos responsáveis pela execução.
- () Para o autor, levaremos aproximadamente 30 anos para alcançarmos uma sociedade livre, justa e solidária.

Marque a alternativa que preenche corretamente os parênteses, de cima para baixo.

- a) V – V – V
- b) V – F – V
- c) F – V – F
- d) F – F – F
- e) F – V – V

2) Sobre o texto, fazem-se as seguintes afirmações.

- I- É necessária uma Reconstituição Federal, pois estrangeiros têm vantagens públicas que os próprios brasileiros não possuem.
- II- “Lei das leis” e “Carta Magna” são sinônimos de Constituição Federal.
- III- Uma Reconstituição Federal não envolve uma mudança no texto constitucional, e sim na nossa forma de ser e de agir.

Marque a alternativa correta.

- a) Apenas a afirmação I está correta.
- b) Apenas a afirmação II está correta.
- c) Apenas as afirmações I e II estão corretas.
- d) Apenas as afirmações II e III estão corretas.
- e) Todas as afirmações estão corretas.

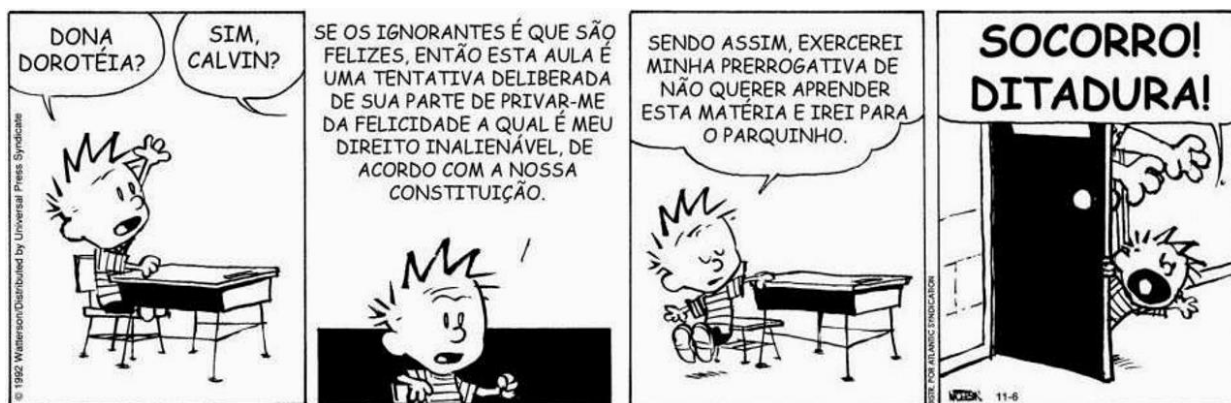
3) Qual das alternativas abaixo mantém a ideia expressada na frase “**o texto segue nessa toada**” (linha 20).

- a) O texto segue nesse caminho.
- b) O texto segue nesse blablablá.
- c) O texto segue nessa viagem.
- d) O texto segue nessa repetição.
- e) O texto segue nessa distância.

4) O pronome **la** (linha 2) retoma por coesão e coerência

- a) Constituição Federal. (linha 1)
- b) leis. (linha 1)
- c) administração pública. (linha 2)
- d) pena. (linha 2)
- e) censura. (linha 2)

A questão 5 refere-se à charge a seguir.



(WATTERSON, Bill. *Calvin*. Disponível em: <<http://liberdadeeduca.blogspot.com/2014/03/uma-breve-historia-da-educacao.html>>. Acesso em: 20 set. 2018).

5) Sobre a charge, fazem-se as seguintes afirmações.

- I- Calvin pede para fazer uso do direito constitucional à felicidade e, portanto, acredita que não precisa ficar em sala de aula.
- II- Calvin acredita que o estudo acaba com a ignorância.
- III- Ao ver que a professora não vai liberá-lo, Calvin pede ajuda à ditadura.

Marque a alternativa correta.

- a) Apenas a afirmação II está correta.
- b) Apenas as afirmações I e II estão corretas.
- c) Apenas as afirmações I e III estão corretas.
- d) Apenas as afirmações II e III estão corretas.
- e) Todas as afirmações estão corretas.

6) A expressão **de acordo com**, utilizada por Calvin, no segundo quadrinho, estabelece uma relação de sentido de

- a) temporalidade.
- b) conformidade.
- c) adição.
- d) contraste.
- e) condicionalidade.

As questões 7 e 8 referem-se ao filme *Faroeste Caboclo* (2013), dirigido por René Sampaio.

7) Sobre o filme, são feitas as seguintes afirmações. O enredo

- I- mostra a saga de João, que sai de sua terra e vai para Brasília a fim de estender sua rede de tráfico.
- II- evidencia o funcionamento dos aparelhos policiais no efetivo combate ao comércio de drogas na capital do país.
- III- foca na representação do desamparo do cidadão brasileiro, que vive à revelia de seus direitos constitucionais.

Marque a alternativa correta.

- a) Apenas a afirmação I está correta.
- b) Apenas a afirmação II está correta.
- c) Apenas a afirmação III está correta.
- d) Apenas as afirmações I e II estão corretas.
- e) Todas as afirmações estão corretas.

8) Considere verdadeiras (V) ou falsas (F) as proposições que seguem. Na película,

- () Pablo, o primo de João de Santo Cristo, é proprietário de uma carpintaria na periferia de Brasília, local que serve como ponto de venda de drogas.
- () a emergência social, retratada nos espaços periféricos, mostra o não cumprimento dos direitos constitucionais que amparam o cidadão.
- () a personagem Maria Lúcia figura como filha de um senador da República, que a expulsa de casa depois de flagrá-la na companhia de João de Santo Cristo.

Marque a alternativa que preenche corretamente os parênteses, de cima para baixo.

- a) V – F – V
- b) F – F – V
- c) F – F – F
- d) V – F – F
- e) F – V – V

A questão 9 refere-se ao excerto a seguir.

O rio Lombe brilhava na vegetação densa. Vinte vezes o tinham atravessado. Teoria, o professor, tinha escorregado numa pedra e esfolara profundamente o joelho. O Comandante disse a Teoria para voltar à Base, acompanhado de um guerrilheiro. O professor, fazendo uma careta, respondera:

- Somos dezesseis. Ficaremos quatorze.

Matemática simples que resolvera a questão: era difícil conseguir-se um efetivo suficiente. De mau grado, o Comandante deu ordem de avançar. Vinha por vezes juntar-se a Teoria, que caminhava em penúltima posição, para saber como se sentia. O professor escondia o sofrimento. E sorria sem ânimo.

À hora de acampar, alguns combatentes foram procurar lenha seca, enquanto o Comando se reunia. Pangu-Akitina, o enfermeiro, aplicou um penso no ferimento do professor. O joelho estava muito inchado e só com grande esforço ele podia avançar.

Aos grupos de quatro, prepararam o jantar: arroz com *corned-beef*. Terminaram a refeição às seis da tarde, quando já o sol desaparecera e a noite cobrira o Mayombe. As árvores enormes, das quais pendiam cipós grossos como cabos, dançavam em sombras com os movimentos das chamas. Só o fumo podia libertar-se do Mayombe e subir, por entre as folhas e as lianas, dispersando-se rapidamente no alto, como água precipitada por cascata estreita que se espalha num lago.

(PEPETELA. **Mayombe**. Rio de Janeiro: Leya, 2018, p. 13).

9) Com base no texto, considere verdadeiras (V) ou falsas (F) as proposições que seguem. O fragmento narra

- () o primeiro comunicado escrito pelo Comando do exército angolano em terras portuguesas.
- () a condição de encarceramento em que os soldados se encontravam em meio à floresta do Mayombe.
- () a força imensurável da natureza diante da condição humana, característica que vai estar presente em toda a narrativa.

Marque a alternativa que preenche corretamente os parênteses, de cima para baixo.

- a) V – V – V
- b) F – F – F
- c) F – F – V
- d) V – V – F
- e) V – F – V

10) Sobre **Mayombe**, de Pepetela, são feitas as seguintes afirmações. A narrativa

- I- retrata o momento da luta pela implementação da colonização portuguesa em Angola.
- II- está ambientada na cidade de Luanda, no começo dos anos 90 do século XX, quando se dá início ao processo de constituição do novo Estado democrático e independente.
- III- mostra a luta pela superação das diferenças tribais que dificultavam o projeto de nação iniciado com as lutas de resistência.

Marque a alternativa correta.

- a) Apenas a afirmação I está correta.
- b) Apenas a afirmação II está correta.
- c) Apenas a afirmação III está correta.
- d) Apenas as afirmações I e II estão corretas.
- e) Apenas as afirmações II e III estão corretas.

A questão 11 refere-se ao trecho a seguir.

Uma noite acordamos sobressaltados, ouvindo gritos: Fogo! A cidade está incendiando! Vesti-me rapidamente e corri para a rua. O fogo era na loja que papai havia aberto com Paulão, um enorme armazém que vendia de tudo. Havia um clima de festa, inspirada pelo terror, as pessoas se movimentando, aglomeradas, conversando animadamente. As chamas ameaçavam espalhar-se pelas casas de madeira, Papai e Paulão entre os que se mobilizavam para debelar o fogo. As labaredas tomavam conta do céu. As paredes da loja já haviam sumido. Viam-se restos de móveis, armários de vários tipos, mesas e camas pegando fogo. Por um resto de janela, as chamas cresciam, saíam labaredas grossas, subia fumaça, espalhava-se um fedor de panos queimados, dos muitos colchões, colchas e toalhas, e os vidros das janelas partiam, provocando ruídos finos. Muitos vieram lamentar o ocorrido com papai, que respondia com grande dignidade que o importante era salvar os demais prédios, São coisas que acontecem, foi a combustão. Escutei, Dizem que foi de propósito, para pegar o dinheiro do seguro – e nunca pude apurar se de fato papai havia instruído Paulão a pôr fogo no prédio. Sei que papai não dormia e que não era de preocupação, era contando o dinheiro ganho e fazendo cálculos sobre os novos investimentos.

(ALMINO, João. **Cidade Livre**. Rio de Janeiro: Record, 2010, p. 180).

11) Com base no texto, considere verdadeiras (V) ou falsas (F) as proposições que seguem. No trecho,

- () o incêndio do armazém apresenta-se como mais uma das estratégias empreendidas pelo pai do narrador na construção de seu enriquecimento ilícito em Brasília.
- () o narrador materializa seu delírio, depois de ter sido castigado brutalmente pelo pai.
- () evidencia-se a destruição do armazém, o que o narrador mostra como se fosse o resultado de uma vida inteira de luta diária de seu pai.

Marque a alternativa que preenche corretamente os parênteses, de cima para baixo.

- a) V – V – V
- b) F – V – V
- c) F – F – F
- d) V – F – F
- e) V – F – V

12) Sobre **Cidade Livre**, de João Almino, são feitas as seguintes afirmações. O livro

- I- traz o funcionamento de uma rede de corrupção que se organizou à época da construção de Brasília.
- II- apresenta uma narrativa estruturada por um narrador que não está incluído nos eventos narrados.
- III- evidencia uma estética literária comum ao Realismo brasileiro do século XIX.

Marque a alternativa correta.

- a) Apenas a afirmação I está correta.
 - b) Apenas a afirmação II está correta.
 - c) Apenas a afirmação III está correta.
 - d) Apenas as afirmações I e II estão corretas.
 - e) Todas as afirmações estão incorretas.
- 13) Assinale a alternativa que apresenta o modelo político que se organizou com a concentração de poderes nas mãos dos reis, decorrente da consolidação do Estado Moderno. Uma de suas características é o poder ilimitado nas mãos do governante que, na visão de alguns teóricos, seria sagrado.
- a) Constitucionalismo
 - b) Absolutismo
 - c) Mercantilismo
 - d) Nacionalismo
 - e) Imperialismo

A questão 14 refere-se à citação a seguir.

“A partir do século XVI, a empresa colonial giraria em torno da cana: a formação de vilas e cidades, a defesa de territórios, a divisão de propriedades, as relações com os diferentes grupos sociais e até a escolha da capital. [...] No entanto, a despeito das tentativas da metrópole de controlar a colônia, a descentralização era evidente. O centro da vida, o local de mando e de hierarquia permanecia retido, real e simbolicamente, em torno da casa-grande e do engenho.”

(SCHWARCZ, Lília; STARLING, Heloisa. **Brasil: uma biografia**. São Paulo: Companhia das Letras, 2015).

14) Sobre o Brasil no período colonial, assinale verdadeiras (V) ou falsas (F) as afirmações que seguem.

- () O Brasil já teve várias capitais, sendo a primeira, Salvador, na Bahia. Sua escolha se deveu ao fato de ser o Nordeste a principal região açucareira à época.
- () Os engenhos eram as regiões para onde iam aqueles que fugiam da situação de escravização, organizando espaços de resistência.
- () O modelo da chamada “civilização do açúcar” era baseado na monocultura, no latifúndio e na escravização.

Marque a alternativa que preenche corretamente os parênteses, de cima para baixo.

- a) V – V – V
- b) F – F – V
- c) V – F – V
- d) V – F – F
- e) F – V – F

- 15) *Faroeste Caboclo* é o título original de uma canção gravada pela banda Legião Urbana em 1987. É uma história de amor, violência e morte no Brasil do século XX, que se utiliza do termo “faroeste” ou *farWest*, popular gênero literário na segunda metade do século XIX.

Essas histórias de faroeste representavam episódios bem específicos da história dos EUA, sobre os quais se fazem algumas afirmações.

- I- Assim como na canção, as histórias de faroeste apresentavam violência e morte contra as populações indígenas locais que iam sendo dizimadas durante a conquista do oeste dos EUA.
- II- A conquista do oeste também foi marcada pela “corrida do ouro”, que levou aos EUA milhões de migrantes de diferentes locais do mundo atrás da riqueza recém descoberta.
- III- Novidades como as estradas de ferro e a urbanização espalhavam-se pela América nessa época, favorecendo a integração e a convivência pacífica dos povos, fossem de origem europeia, africana ou ameríndia.

Com base nas afirmações, assinale a alternativa correta.


- a) Apenas a afirmação I está correta.
 - b) Apenas as afirmações I e II estão corretas.
 - c) Apenas as afirmações I e III estão corretas.
 - d) Apenas as afirmações II e III estão corretas.
 - e) Todas as afirmações estão corretas.
- 16) “Constituição é a Lei Maior de uma sociedade politicamente organizada. É o modo pelo qual se forma, se estabelece e se organiza uma sociedade. As constituições podem ser classificadas quanto ao conteúdo, como materiais e formais. Do ponto de vista material, Constituição seria um conjunto de normas que disciplinam a criação do Estado, da sua estrutura básica, das atribuições de seus órgãos, dos limites de poder, dos direitos dos indivíduos, dos grupos e da sociedade como um todo”.

(Adaptado de: MAFRA FILHO, Francisco. **Constituição**: Conceito. Princípios Fundamentais do Estado Democrático de Direito. Disponível em: <http://conteudo.juridico.com.br/?colunas&colunista=36_Francisco_Filho&ver=1353>. Acesso em: 22 set. 2018).

O Brasil teve diferentes Constituições, sendo a primeira de 1824, e a mais recente, a de 1988. As alternativas que seguem apresentam características dessas Constituições, **exceto**:

- a) A primeira Constituição ficou conhecida como a Outorgada. Isso significa que ela foi imposta e não aprovada por uma Assembleia Constituinte. Sua vigência foi de 1824 até a criação da primeira Constituição republicana, promulgada em 1891.
- b) A nossa primeira Constituição, outorgada por D. Pedro I, estabelecia o governo monárquico, além de extinguir a escravidão e instituir um regime democrático para o País.
- c) Em 1937, Getúlio Vargas outorgou a Constituição conhecida como “Polaca”. Ela foi fundamental na implantação da ditadura do Estado Novo.
- d) O período entre 1945 e 1964 ficou conhecido como “Período Democrático”. Em 1946, foi promulgada (aprovada por uma Assembleia Constituinte) uma Constituição que garantia a liberdade de expressão e a eleição direta para a Presidência da República.
- e) Durante a ditadura civil-militar, houve a promulgação de uma Constituição de caráter autoritário, a qual confirmava os Atos Institucionais impostos pelo governo e trazia questões como eleição indireta para a Presidência da República e limitação de liberdades políticas e civis.

As imagens a seguir referem-se à questão 17.



(Disponível em: <<https://www.terra.com.br/noticias/brasil/politica/fotografo-relembra-comicio-das-diretas-que-reuniu-300-mil-em-mg,3787ea720d654410VgnVCM10000098cceb0aRCRD.html>> e <<http://www.educacional.com.br/reportagens/20AnosConstituicao/cidada.asp>>. Acesso em: 25 set. 2018).

- 17) As imagens são representativas do que o Brasil vivia na década de 1980: abertura política, manifestações e luta pelo retorno dos direitos políticos. Movimentos como “Diretas Já!” e a intensa participação da sociedade nas discussões durante a Assembleia Constituinte, instalada em 1987, são os momentos aqui destacados.

Sobre o período apresentado e a Constituição de 1988, que completou 30 anos, fazem-se as seguintes afirmações.

- I- O Movimento “Diretas Já!” lutava pela eleição direta para a Presidência da República, que não ocorria desde 1960. Sua reivindicação foi derrotada em 1984 ao não se conseguir aprovar a Emenda Constitucional Dante de Oliveira. Apenas em 1988, com a promulgação da nova Constituição, tivemos a garantia de eleições diretas em todos os níveis.
- II- A Constituição de 1988 ficou conhecida como “Cidadã”, por seu caráter democrático e de cuidados com a garantia de direitos, além da intensa mobilização gerada na sociedade durante as discussões.
- III- Emendas Constitucionais foram aprovadas ao longo desses 30 anos de Constituição Cidadã, alterando o texto original. Uma dessas alterações diz respeito à possibilidade de uma reeleição para os cargos executivos, como o de Presidente da República, que antes não era permitida.

Marque a alternativa correta.

- a) Apenas a afirmação I está correta.
- b) Apenas a afirmação II está correta.
- c) Apenas a afirmação III está correta.
- d) Apenas as afirmações I e II estão corretas.
- e) Todas as afirmações estão corretas.

- 18) Sobre os processos políticos ocorridos nos últimos anos em diferentes localidades e que demonstram o acirramento político atual, assinale como verdadeiras (V) ou falsas (F) as afirmações que seguem.
- () Na eleição presidencial francesa de 2017, houve uma vitória das forças de extrema-direita, representadas pela Frente Nacional de Marine Le Pen, que acabou derrotando Emmanuel Macron, um político considerado mais moderado.
 - () A Nicarágua, presidida por Daniel Ortega, vive um processo de conflitos políticos e de violência, que já levou pessoas à morte.
 - () Após a vitória do *Brexit*, a Inglaterra vive um processo de forte integração com os países vizinhos, visando à implementação do euro como moeda oficial do país.

Marque a alternativa que preenche corretamente os parênteses, de cima para baixo.

- a) V – V – V
- b) F – F – V
- c) V – F – F
- d) F – V – F
- e) F – V – V

A questão 19 refere-se à notícia que segue, publicada no dia 8 de setembro de 2018.

Refugiados deixam o Brasil após morte de brasileiro e venezuelano em Roraima

Cerca de 100 venezuelanos deixaram a capital de Roraima na manhã deste sábado, 8 de setembro. O grupo decidiu voltar ao seu país natal de ônibus, depois que um brasileiro e um venezuelano foram assassinados durante uma confusão nas proximidades de um abrigo para refugiados, na última quinta-feira, dia 6. Os refugiados que decidiram ficar no Brasil afirmam que o clima continua tenso em relação à convivência social com os brasileiros e todos temem novos conflitos na região.

(Adaptado de: <<https://ultimosegundo.ig.com.br/brasil/2018-09-08/venezuelanos-deixa-roraima-onibus.html>>. Acesso em: 17 set. 2018).

- 19) Sobre os temas relacionados à notícia, fazem-se as seguintes afirmações.
- I- Entre os principais motivos para a saída de venezuelanos de sua terra natal, estão dificuldades econômicas, como a alta inflação, a escassez de alimentos, de remédios e de produtos básicos, além de questões políticas relativas à discordância de ações do presidente Nicolás Maduro.
 - II- O intenso fluxo migratório na região de fronteira do estado de Roraima com a Venezuela, nos últimos anos, é explicado pela crescente oferta de trabalho no norte do Brasil, o que faz com que o país seja atualmente o principal destino dos refugiados venezuelanos.
 - III- Refugiados são pessoas que estão fora de seu país de origem devido a perseguições relacionadas a questões de raça, religião, nacionalidade, pertencimento a um determinado grupo social ou opinião política, como também devido a ações de violação de direitos humanos e a conflitos armados.

Marque a alternativa correta.

- a) Apenas a afirmação I está correta.
- b) Apenas a afirmação II está correta.
- c) Apenas a afirmação III está correta.
- d) Apenas as afirmações I e III estão corretas.
- e) Todas as afirmações estão corretas.

A questão 20 refere-se à charge a seguir.



(Disponível em: <<https://blogdopedlowski.com/2014/11/20/angeli-e-o-dia-da-consciencia-negra/>>. Acesso em: 19 set. 2018).

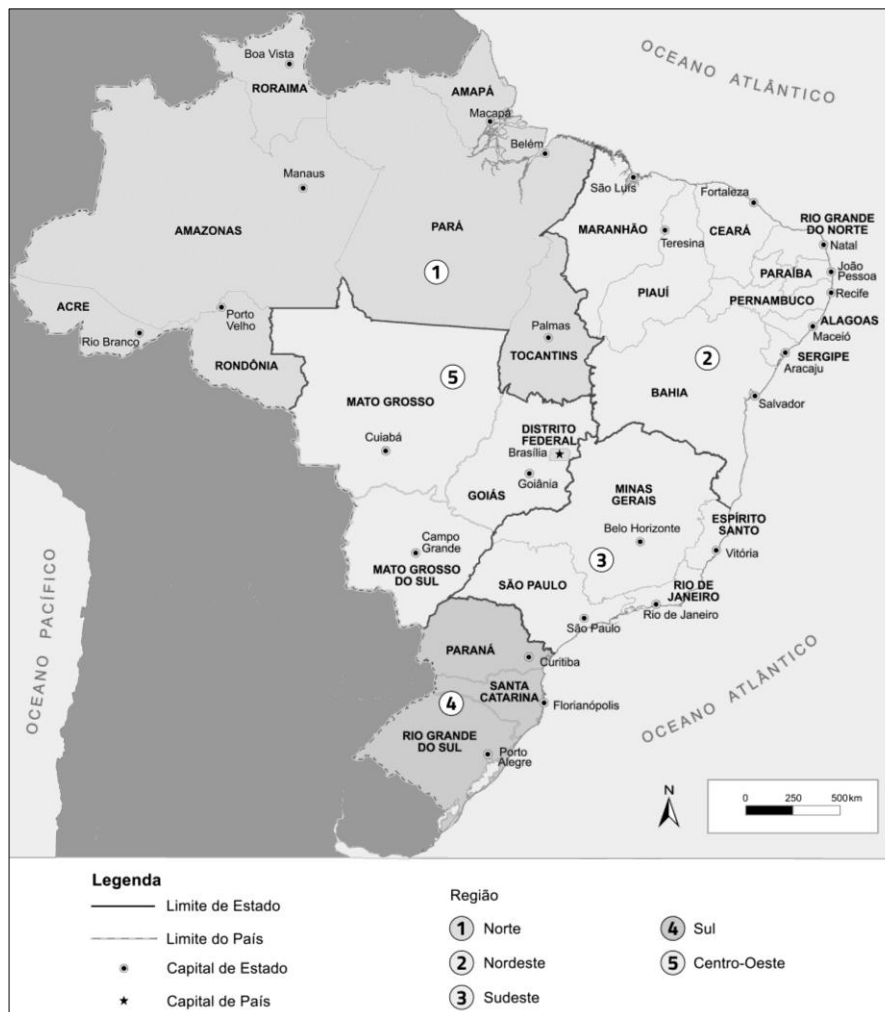
20) A partir do tema da charge, fazem-se as seguintes afirmações.

- I- A Consciência Negra é celebrada no dia 20 novembro, em homenagem a Zumbi dos Palmares, símbolo de resistência e líder do maior quilombo existente no Brasil no período colonial.
- II- A charge retrata a desigualdade social que predomina na sociedade brasileira, manifestada em menores salários e oportunidades de trabalho e estudo para afrodescendentes. Visando a amenizar essas diferenças, foram criadas leis que destinam cotas em concursos públicos e em processos seletivos de instituições públicas de ensino para candidatos autodeclarados negros ou pardos.
- III- O Movimento Negro tem atuado de forma ativa nas últimas décadas, reivindicando direitos para a população negra. Entre as principais conquistas, está a definição do racismo como crime inafiançável na Constituição de 1988, além da lei n. 10.639/2003, que estabeleceu a obrigatoriedade da inclusão das temáticas de história da África e da cultura afro-brasileira em todos os currículos escolares das redes de ensino, da educação básica à superior.

Marque a alternativa correta.

- a) Apenas a afirmação I está correta.
- b) Apenas a afirmação II está correta.
- c) Apenas a afirmação III está correta.
- d) Apenas as afirmações I e II estão corretas.
- e) Todas as afirmações estão corretas.

A questão 21 refere-se ao mapa a seguir.



(Disponível em: <<https://goo.gl/DHs82R>>. Acesso em: 21 set. 2018).

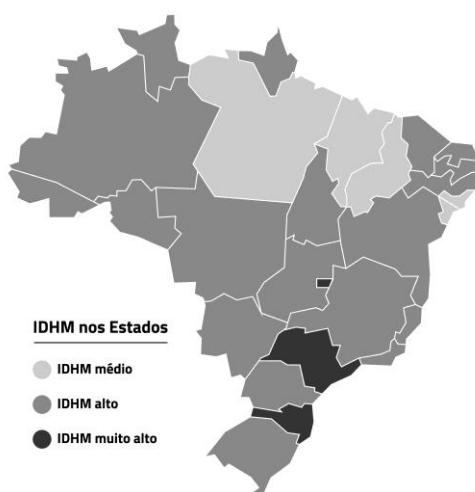
21) A partir do mapa da divisão político-administrativa, considere verdadeiras (V) ou falsas (F) as afirmações que seguem sobre a organização do território brasileiro.

- () A organização político-administrativa brasileira compreende as unidades da federação, constituída por 26 estados e pelo Distrito Federal, onde está localizada a capital do país, Brasília, desde 1960.
- () A última alteração na organização do território brasileiro ocorreu em 1988, quando a Constituição determinou a criação do estado do Tocantins a partir do desmembramento de Goiás, a elevação de Roraima e Amapá à categoria de estados autônomos e a incorporação de Fernando de Noronha ao estado de Pernambuco.
- () A divisão do Brasil em regiões político-administrativas é atribuição do Instituto Brasileiro de Geografia e Estatística (IBGE) e tem o objetivo de reunir estados com traços físicos, humanos, econômicos e sociais comuns. A regionalização político-administrativa divide o país atualmente em cinco regiões.

Marque a alternativa que preenche corretamente os parênteses, de cima para baixo.

- a) V – F – V
- b) V – V – F
- c) V – V – V
- d) F – F – V
- e) F – F – F

A questão 22 refere-se à imagem e à tabela a seguir, que apresentam os dados relativos ao Índice de Desenvolvimento Humano Municipal (IDHM).



BRASIL	0,761				
DF	0,839	MS	0,762	AM	0,709
SP	0,819	GO	0,75	PE	0,709
SC	0,813	AP	0,747	BA	0,703
PR	0,79	RR	0,732	PB	0,701
RS	0,779	TO	0,732	SE	0,681
RJ	0,778	AC	0,719	MA	0,678
ES	0,771	RN	0,717	PI	0,678
MG	0,769	CE	0,716	PA	0,675
MT	0,767	RO	0,715	AL	0,667

(Adaptado de: <<https://noticias.uol.com.br/cotidiano/ultimas-noticias/2016/11/22/df-sao-paulo-e-santa-catarina-lideram-desenvolvimento-humano-entre-estados.htm>>. Acesso em: 19 set. 2018).


22) A partir do tema, fazem-se as seguintes afirmações.

- I- O Índice de Desenvolvimento Humano Municipal (IDHM) mede indicadores de renda, educação e longevidade da população e é semelhante ao Índice de Desenvolvimento Humano (IDH), utilizado para comparar a qualidade de vida entre diferentes países. Quanto mais perto de 1, melhor o indicador.
- II- O Distrito Federal, São Paulo e Santa Catarina, localizados na região Sudeste, foram as únicas unidades da federação classificadas com IDHM muito alto, que corresponde a um indicador acima de 0,8.
- III- Cinco Estados – Sergipe, Maranhão, Piauí, Pará e Alagoas – aparecem com médio desenvolvimento humano (de 0,6 a 0,699), demonstrando que as regiões Norte e Nordeste são as que possuem os menores índices de desenvolvimento humano no Brasil.

Marque a alternativa correta.

- a) Apenas a afirmação I está correta.
- b) Apenas a afirmação II está correta.
- c) Apenas as afirmações I e II estão corretas.
- d) Apenas as afirmações I e III estão corretas.
- e) Todas as afirmações estão corretas.

A questão 23 refere-se às imagens que seguem.



(1 - Disponível em: <<http://amazonasatual.com.br/preservacao-da-amazonia-centrada-no-carbono-ameaca-biodiversidade-diz-estudo/>>. Acesso em: 18 set. 2018).

(2 - Disponível em: <<http://naturezaemergente.blogspot.com/2012/01/savaniao-reino-dos-leoes.html>>. Acesso em: 18 set. 2018).

(3 - Disponível em: <<https://www.oeco.org.br/noticias/hoje-e-dia-do-pampa/>>. Acesso em: 18 set. 2018).

(4 - Disponível em: <<http://www.vounajanela.com/alemanha/floresta-negra-na-alemanha/>>. Acesso em: 18 set. 2018).

(5 - Disponível em: <<http://www.marcoronconi.com/galleries/tundra/>>. Acesso em: 18 set. 2018).

23) Considere que uma das paisagens apresentadas nas imagens tem a seguinte descrição:

- Clima com elevada precipitação anual – de 1500 a 4000 mm –, distribuída em todos os meses do ano; temperatura média de 25°C a 28°C.
- Solos com grandes profundidades, pobres em húmus, mas com contínua e rápida reciclagem de nutrientes.
- Alta riqueza de vertebrados, como anfíbios, répteis e mamíferos.

A imagem que corresponde a essas características é a

- 1.
- 2.
- 3.
- 4.
- 5.

24) A hidrografia do Rio Grande do Sul apresenta diversas formações que, historicamente, geram confusões em suas nomenclaturas. O Guaíba, tradicionalmente conhecido como _____, é considerado por alguns geógrafos um estuário ou _____, em razão de cerca de 85% de suas águas ficarem retidas em seu reservatório por um longo período e as águas que nele desembocam formarem um delta. Outra denominação em disputa é a da _____ dos Patos, considerada uma _____, por comunicar-se com o mar aberto por meio de um canal e apresentar mistura de água doce e salgada.

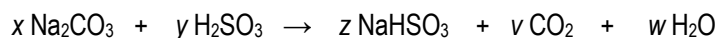
27) A produção do papel sulfite envolve vários processos e diversos compostos químicos, como sulfeto de sódio, hidróxido de sódio, dióxido de cloro, sulfito de sódio e ácido sulfuroso, entre outros. Assinale a alternativa que apresenta, respectivamente, as fórmulas químicas dos compostos citados no texto.

- a) Na_2S , NaOH , ClO_2 , Na_2SO_3 e H_2SO_3
- b) Na_2S , NaOH , ClO_2 , Na_2SO_4 e H_2SO_4
- c) Na_2SO_4 , NaOH , ClO_2 , Na_2S e H_2SO_3
- d) Na_2SO_3 , NaOH , ClO_2 , NaS e H_2SO_4
- e) NaS , Na_2SO_3 , ClO_2 , NaOH e H_2SO_3

28) Os compostos sulfeto de sódio, hidróxido de sódio, dióxido de cloro, sulfito de sódio e ácido sulfuroso, quanto às suas classificações em funções químicas inorgânicas, correspondem respectivamente a

- a) base, ácido, óxido, ácido e sal.
- b) sal, base, sal, ácido e óxido.
- c) ácido, base, sal, óxido e sal.
- d) sal, base, óxido, sal e ácido.
- e) sal, base, óxido, óxido e sal.

29) Em uma das etapas da produção do papel, ocorre a formação do bissulfito de sódio, conforme a seguinte reação não balanceada:



Para que a reação esteja corretamente balanceada, os coeficientes x , y , z , v e w devem ser, respectivamente,

- a) 2, 3, 4, 2 e 2
- b) 1, 1, 2, 1 e 2
- c) 1, 1, 1, 2 e 2
- d) 1, 1, 1, 1 e 2
- e) 1, 2, 2, 1 e 1

30) Nas Olimpíadas de Seul, em 1988, o jamaicano naturalizado canadense Ben Johnson e o norte-americano Carl Lewis travaram a maior rivalidade do atletismo e chegaram para a disputa da medalha de ouro, nos 100m rasos, em clima de muita tensão. Ben Johnson venceu e estabeleceu um novo recorde mundial, com tempo de 9,79s. Dois dias mais tarde, Johnson não tinha mais nem recorde, nem medalha. Foi flagrado no exame antidoping para anabolizantes.

Considerando um atleta que tenha completado a prova dos 100m rasos em 10s, qual seria a sua velocidade média em km.h^{-1} ?

- a) 10
- b) 28
- c) 36
- d) 50
- e) 88

- 31) A Termodinâmica é uma área da Física que estuda as transferências de energia. Busca compreender as relações entre calor, energia e trabalho, analisando quantidades de calor trocadas e trabalhos realizados em um processo físico.

Sobre o conceito de calor, é correto afirmar que

- a) está relacionado com a temperatura de um sistema.
 - b) é uma forma de energia contida nos corpos.
 - c) é um tipo de energia que transita entre um corpo quente e um corpo frio, devido à diferença de temperatura entre ambos.
 - d) é uma escala de temperatura medida em Kelvin.
 - e) é o trabalho realizado numa transformação isocórica.
- 32) As ondas eletromagnéticas propagam-se em dois campos variáveis: um elétrico e outro magnético. Ao contrário das ondas mecânicas, as eletromagnéticas podem se propagar no vácuo, no qual a velocidade de propagação é de aproximadamente $300.000 \text{ km.s}^{-1}$. A luz é parte do espectro eletromagnético. O ano-luz é uma escala de medida utilizada na Física. Essa é uma escala de
- a) tempo.
 - b) distância.
 - c) velocidade.
 - d) momento linear.
 - e) energia.
- 33) Isaac Newton foi um astrônomo, alquimista, filósofo natural, teólogo e cientista inglês, mais reconhecido como físico e matemático. Sua obra **Princípios Matemáticos da Filosofia Natural** é considerada uma das mais influentes na história da ciência. Nessa obra, estão as famosas Três Leis de Newton.

É uma consequência da terceira Lei de Newton:

- a) a impossibilidade de um corpo mudar o seu estado de movimento, se sobre ele estiver atuando uma força resultante nula.
 - b) a impossibilidade de existir uma força de ação sem uma força de reação.
 - c) a possibilidade de anular a aceleração de um corpo com velocidade constante.
 - d) a possibilidade de desviar a luz por meio da refração.
 - e) a impossibilidade de conservar o momento angular de um movimento retilíneo.
- 34) Resistência elétrica é a capacidade de um corpo qualquer se opor à passagem de corrente elétrica quando existe uma diferença de potencial aplicada. Suponha um resistor com resistência de 20 ohms e submetido a uma tensão de 100 V. Determine a potência dissipada nesse resistor.
- a) 100 W
 - b) 200 W
 - c) 300 W
 - d) 400 W
 - e) 500 W

35) A eleição para presidente do clube X teve três candidatos: A, B e C. O candidato A recebeu a terça parte dos votos obtidos pelo candidato C, que por sua vez recebeu 25% do total de votos. O candidato B recebeu 1000 votos. Sabendo que todos os sócios votaram em um dos candidatos, determine o número de sócios do clube X.

- a) 1250 sócios.
- b) 1500 sócios.
- c) 2000 sócios.
- d) 5000 sócios.
- e) 7500 sócios.

36) A internet chegou ao Brasil durante o ano de 1988, mesmo ano da promulgação da atual Constituição. Hoje, grande parte dos brasileiros tem acesso à internet e passa várias horas por dia conectada. Na casa de Leandro, existem três usuários de internet: ele, seu pai e sua mãe. Leandro decidiu medir o tempo que cada um deles passou conectado em determinado dia e obteve os seguintes dados:

- Tempo de conexão de Leandro: 6,25h
- Tempo de conexão de sua mãe: 3,5h
- Tempo de conexão de seu pai: 2,75h

Com base nesses dados, qual foi a soma dos tempos de conexão dos três usuários de internet da casa de Leandro nesse dia?

- a) 11h.
- b) 11h e 45min.
- c) 12h e 30min.
- d) 12h e 45min.
- e) 12h e 50min.

37) Nos últimos anos, a população mundial aumentou substancialmente. Utilizam-se Funções Matemáticas exponenciais do tipo $f(x) = ce^{kx}$, onde $c > 0$ e k são constantes, para modelar tais fenômenos. Com relação a esse tipo de função, podemos afirmar que

- a) é uma função crescente somente para $k > 0$.
- b) é uma função crescente para qualquer valor de k .
- c) é uma função decrescente somente para $k > 0$.
- d) é uma função que tem crescimento linear.
- e) não existem funções exponenciais decrescentes.

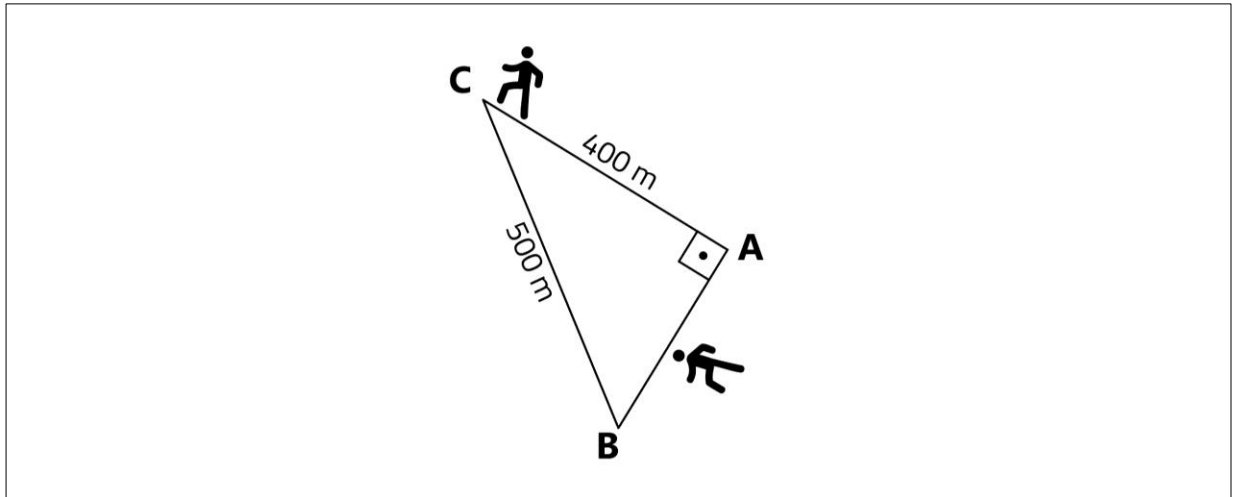
38) As operações de soma, multiplicação e cálculo do determinante de matrizes podem ser realizadas dependendo da ordem das matrizes envolvidas. Com base na ordem das matrizes $A_{2 \times 3}$, $B_{3 \times 2}$ e $C_{2 \times 2}$, considere verdadeiras (V) ou falsas (F) as afirmações que seguem.

- () É possível multiplicar as matrizes A e B , nessa ordem, e também somá-las.
- () É possível multiplicar as matrizes A e C .
- () É possível calcular o determinante da matriz C .

Marque a alternativa que preenche corretamente os parênteses, de cima para baixo.

- a) V – V – V
- b) F – F – F
- c) V – F – V
- d) F – F – V
- e) F – V – V

- 39) Dois amigos partiram de um mesmo ponto A caminhando em direções diferentes e formando, entre as direções, um ângulo de 90° , conforme a figura. Um dos amigos percorreu 400 m e chegou ao ponto C, ao passo que o outro caminhou até chegar ao ponto B. A menor distância entre os pontos B e C é de 500 m, sendo assim, é correto afirmar que o percurso do ponto A ao ponto B é de



- a) 100 m.
b) 200 m.
c) 300 m.
d) 640 m.
e) 900 m.
- 40) Considere os conjuntos $A = \{\blacksquare, \otimes, \triangle, *, \odot\}$, $B = \{1, 2, 3, 4, 5\}$ e a função $f: A \rightarrow B$ definida pelos seguintes pares ordenados $f = \{(\blacksquare, 1); (\otimes, 2); (\triangle, 3); (*, 4); (\odot, 5)\}$. Sobre essa função, são feitas as seguintes afirmações.

- I- É uma função injetora, mas não é sobrejetora.
II- É uma função bijetora.
III- Essa função admite inversa $f^{-1}: B \rightarrow A$

Marque a alternativa correta.

- a) Apenas a afirmação I está correta.
b) Apenas a afirmação II está correta.
c) Apenas a afirmação III está correta.
d) Apenas as afirmações I e II estão corretas.
e) Apenas as afirmações II e III estão corretas.

- 41) As células são as estruturas fundamentais dos seres vivos. A área da Biologia que estuda as células é também chamada de _____. O avanço nessa área de estudo foi possível devido ao desenvolvimento do _____.

Assinale a alternativa que preenche corretamente as lacunas do texto.

- a) histologia – microscópio
 - b) embriologia – osciloscópio
 - c) citologia – microscópio
 - d) zoologia – computador pessoal
 - e) citologia – raio x
- 42) A Teoria da Evolução teve um autor e expoente principal, _____, sempre lembrado como seu proponente. Contudo, a teoria teve uma forte contribuição de outros cientistas, como _____ e _____.

Assinale a alternativa que preenche corretamente as lacunas do texto.

- a) Darwin – Mendel – Aristóteles
 - b) Darwin – Lamarck – Wallace
 - c) Wallace – Lineu – Aristóteles
 - d) Lavoisier – Einstein – Pauling
 - e) Galileu – Curie – Kepler
- 43) A relação ecológica que ocorre somente entre organismos de uma mesma espécie é chamada de _____.

Assinale a alternativa que preenche corretamente a lacuna do texto.

- a) mutualismo
 - b) comensalismo
 - c) sociedade
 - d) inquilinismo
 - e) parasitismo
- 44) As angiospermas produzem raiz, caule, folha, flor, semente e fruto. Considerando essas estruturas, em relação às gimnospermas, as angiospermas apresentam duas novidades evolutivas: as flores e os frutos. Os frutos, na maioria das angiospermas, são formados pelo desenvolvimento _____.

Assinale a alternativa que preenche corretamente a lacuna do texto.

- a) dos ovários
- b) dos óvulos fecundados
- c) dos zigotos
- d) dos epicarpos
- e) das oosferas

- 45) Normalmente, entre os meses de julho e novembro, as baleias francas estão em seu período reprodutivo e podem ser facilmente observadas no litoral do Rio Grande do Sul e de Santa Catarina. As baleias são cetáceos, mamíferos aquáticos que apresentam um espesso tecido adiposo para _____.

Assinale a alternativa que preenche corretamente a lacuna do texto.

- a) melhorar a ecolocalização
- b) proteger do ataque de tubarões
- c) diminuir a perda de calor
- d) evitar a dessecação
- e) evitar a fixação de ectoparasitas

INGLÊS

Trash cart superheroes

01. Our world has many superheroes. But they have the worst of all superpowers: invisibility. An example, is the
02. catadores. They are workers who collect recyclable materials for a living. Catadores emerged from social inequality,
03. unemployment, and the abundance of solid waste from the deficiency of the waste collection system. They provide a
04. heavy, honest and essential work that benefits the entire population. But they are not acknowledged for it.

05. Most of them work independently, picking waste from the streets and selling to junk yards at very low prices.
06. Carroças are carts built from wood or metal and found in several streets in Brazil, much like graffiti and street art. And
07. this is how I first met these marginalized superheroes.

08. I am a graffiti artist and activist and my art is social, environmental and political in nature. In 2007, I took my work
09. beyond walls and onto the carroças, as a new urban support for my message. But, at this time, giving voice to the
10. catadores. By adding art and humor to the cause, it became more appealing, which helped to call attention to the
11. catadores and improve their self-esteem. And also, they are famous now on the streets, on mass media and socially.

12. I realized that catadores, in their invisibility, are not exclusive to Brazil. I met them in Argentina, Chile, Bolivia, South
13. Africa, Turkey and even in developed countries such as the United States and Japan. I created a collaborative
14. movement called Pimp My Carroça, which is a large crowdfunded event to help them. Catadores are assisted by well-
15. being professionals and healthcare, like physicians, dentists, podiatrists, hair stylists, massage therapists and much
16. more. But also, their carroças are renovated by our incredible volunteers.

17. Pimp My Carroça took the streets of São Paulo, Rio de Janeiro and Curitiba. But, to meet the demand in other
18. cities, including outside Brazil, we have created PimpX, which is a simplified, do-it-yourself, crowdfunded edition of Pimp
19. My Carroça. So, now, everybody can join. So, catadores are leaving invisibility behind and becoming increasingly
20. respected and valued. Because of their pimped carroças, they are able to fight back prejudice, increase their income
21. and their interaction with society. So, try to see the world as one, without boundaries or frontiers. Believe it or not, there
22. are over 20 million catadores worldwide. Next time you see one, recognize them as a vital part of our society.

(Adaptado de: MUNDANO - TEDGlobal 2014. **Trash cart superheroes**. Disponível em: <https://www.ted.com/talks/mundano_pimp_my_trash_cart/transcript#t-307901>. Acesso em: 09 set. 2018).

46) Sobre o texto, fazem-se as seguintes afirmações.

- I- Os super-heróis também existem na vida real.
- II- Os catadores brasileiros não são essenciais à população.
- III- A desigualdade social, o desemprego e o lixo em abundância fizeram surgir a ocupação de catadores no Brasil.

Marque a alternativa correta.

- a) Apenas a afirmação I está correta.
- b) Apenas a afirmação II está correta.
- c) Apenas a afirmação III está correta.
- d) Apenas as afirmações I e III estão corretas.
- e) Todas as afirmações estão corretas.

47) Com base no texto, considere verdadeiras (V) ou falsas (F) as afirmações que seguem.

- () A maioria dos catadores é autônomo e coleta lixo das ruas para vender aos depósitos de sucatas, geralmente a preços baixos.
- () Grafiteiros são artistas que somente pintam muros nas grandes capitais.
- () Os catadores são invisíveis, exclusivamente, na sociedade brasileira.

Marque a alternativa que preenche corretamente os parênteses, de cima para baixo.

- a) F – V – F
- b) F – F – V
- c) V – V – F
- d) V – F – F
- e) F – F – F

48) Considering the sentence “They provide a heavy, **honest** and essential work that benefits the entire population.”, (lines 3-4), the word **honest** can be replaced without changing meaning by

- a) corrupt.
- b) insincere.
- c) unfair.
- d) unreliable.
- e) decent.

49) Choose the alternative that indicates the same verb tense as in “Pimp My Carroça **took** to the streets of São Paulo, Rio de Janeiro and Curitiba” (line 17).

- a) Catadores are leaving invisibility behind.
- b) There are over 20 million catadores around the world.
- c) Some street artists helped catadores worldwide.
- d) They are able to fight back to prejudice.
- e) So, now, everybody can join.

50) The word “**marginalized**” (line 7) CANNOT be replaced by

- a) acclaimed.
- b) depreciated.
- c) diminished.
- d) alienated.
- e) sidelined.



ESPANHOL

Inteligente, divertida y fresca: así es la historia de "El amor menos pensado".

01. ¿Es amor? ¿Costumbre? ¿Acaso comodidad? ¿O miedo al cambio? Estas preguntas asaltan a Marcos y Ana, una
02. pareja que ha estado casada más de un cuarto de siglo, y que ahora, con el síndrome del "nido vacío" a flor de piel, se
03. transforman en el disparador de una comedia romántica que tendrá a Ricardo Darín y Mercedes Morán viviendo una
04. alocada soltería en donde las redes sociales, la tecnología y las fantasías cumplirán un rol fundamental.
05. Juan Vera, productor, guionista y realizador, dota a esta, su ópera prima, de mucho humor, ironía y diálogos
06. mordaces para el lucimiento de la dupla protagonista, pero también de un elenco tan variopinto como irresistible: Luis
07. Rubio, Andrea Politti, Juan Minujín y Claudia Fontán.
08. Es esta, además de una entretenida (aunque algo extensa) película sobre el amor en la adultez, un retrato
09. sobre la segunda mitad de la vida, un ensayo sobre la redención personal en la etapa del "yo ya estoy de vuelta".
10. No hay solemnidad en este fresco, por el contrario, naturalismo e irreverencia se dan la mano para redondear
11. una comedia clásica que funciona como un reloj.
12. La química de la pareja protagonista, el tono y las palabras que no suenan forzadas en sus respectivos labios
13. generan empatía. Después de algunas películas desparejas como Nieve Negra o La Cordillera, finalmente Darín
14. encuentra un libreto a su medida en el que no necesita "remar" para llevar a buen puerto la historia, de hecho
15. comparte el peso de la trama con Morán, en un acertado balance en el que ambos tienen el mismo peso y
16. protagonismo.
17. Inteligente, divertida y fresca, **El amor menos pensado**, no solo es una de las mejores películas argentinas
18. del año, sino que también se sube al podio como una de las más logradas de la última década.

(Adaptado de PUIG, Alexis. **Inteligente, divertida y fresca**: así es la historia de "El amor menos pensado", el filme de Ricardo Darín y Mercedes Morán. Disponível em: <<https://www.infobae.com/teleshows/en-cartel/2018/08/02/inteligente-divertida-y-fresca-asi-es-la-historia-de-el-amor-menos-pensado-el-filme-de-ricardo-darin-y-mercedes-moran/>>. Acesso em: 20 set. 2018).

46) Sobre o texto, fazem-se as seguintes afirmações.

- I- O texto apresenta uma divertida comédia romântica argentina.
- II- Os protagonistas, Marcos e Ana, estiveram casados por mais de 25 anos.
- III- Apesar de o filme ser protagonizado por um homem e uma mulher, o diretor dedicou ao papel de Ricardo Darín mais peso e destaque.

Marque a alternativa correta.

- a) Apenas a afirmação I está correta.
- b) Apenas a afirmação III está correta.
- c) Apenas as afirmações I e II estão corretas.
- d) Apenas as afirmações I e III estão corretas.
- e) Apenas as afirmações II e III estão corretas.

47) Com base no texto, considere verdadeiras (V) ou falsas (F) as afirmações que seguem.

- () O crítico gostou do filme, apesar de julgar o tempo de exibição um pouco longo.
- () Este filme está no mesmo nível de outras obras, também estreladas por Darín, como *Nieve Negra* e *La Cordillera*.
- () Embora seja um dos melhores filmes argentinos do ano, *El amor menos pensado* sobe ao pódio como uma das obras mais fraudadas da década.

Marque a alternativa que preenche corretamente os parênteses, de cima para baixo.

- a) F – V – V
- b) F – F – V
- c) V – V – F
- d) V – F – F
- e) F – F – F

48) Todas palabras abajo tienen el mismo género de **síndrome** (línea 2) **EXCEPTO**

- a) leche.
- b) color.
- c) coraje.
- d) dolor.
- e) nivel.

La cuestión 49 está relacionada a la siguiente viñeta.



(LINIERS. La vaca cinéfila. Disponível em: <<https://cachureoteca.wordpress.com/2012/11/>>. Acesso em: 24 set. 2018).

49) En la frase **El muchacho ve de lejos y de espaldas** [...], la palabra **lejos** es antónima de

- a) alejos.
- b) cerca.
- c) distante.
- d) allá.
- e) allí.

La cuestión 50 está relacionada a la siguiente viñeta



(LINIERS. La vaca cinéfila. Disponível em: <<http://macanudodeliniers.tumblr.com/post/65587324582>>. Acesso em: 24 set. 2018).

50) En la última imagen, se puede ver una mano con algo que parece ser un

- a) muñón.
- b) faquillo.
- c) tenedor.
- d) sujetador.
- e) cuchillo.

Tabela periódica

Tabela periódica																																																																																																																																																																																																																																																																																																																																																																																																																																																																																																																																																																																																																																																																																																																																																																																																																																																																																																																																																																																																																																																																																																																																																																																																																																															
1		2		3												4		5		6		7		8		9		10		11		12		13		14		15		16		17		18																																																																																																																																																																																																																																																																																																																																																																																																																																																																																																																																																																																																																																																																																																																																																																																																																																																																																																																																																																																																																																																																																																																																																																																																			
1 H hidrogênio 1,008		3 Li lítio 6,94		4 Be berílio 9,0122		11 Na sódio 22,990		12 Mg magnésio 24,305		19 K potássio 39,098		20 Ca cálcio 40,078(4)		21 Sc escândio 44,956		22 Ti tânio 47,867		23 V vanádio 50,942		24 Cr cromio 51,996		25 Mn manganês 54,938		26 Fe ferro 55,845(2)		27 Co cobalto 58,933		28 Ni níquel 58,693		29 Cu cobre 63,546(3)		30 Zn zinco 65,38(2)		31 Ga gálio 69,723		32 Ge germânio 72,630(6)		33 As arsênio 74,922		34 Se selênio 78,971(8)		35 Br bromo 79,904		36 Kr criptônio 83,798(2)		54 Xe xenônio 131,29		86 Rn radônio [222]		118 Og oganessônio [294]																																																																																																																																																																																																																																																																																																																																																																																																																																																																																																																																																																																																																																																																																																																																																																																																																																																																																																																																																																																																																																																																																																																																																																																													
2 He hélio 4,0026		10 Ne neônio 20,180		17 F flúor 18,998		18 Ar argônio 39,948																																																																																																																																																																																																																																																																																																																																																																																																																																																																																																																																																																																																																																																																																																																																																																																																																																																																																																																																																																																																																																																																																																																																																																																																																																								</	